


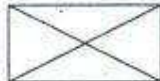
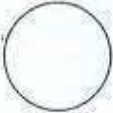

Défi n°5 : CE1

Le jeu des erreurs.

(Défi maths n°5 - Sarrebourg est)

Patrick a retrouvé un vieux parchemin sur lequel sont écrites 26 affirmations. Colorie en bleu celles qui sont justes et en rouge celles qui sont fausses. La différence entre les bleues et les rouges permettra à Patrick de poursuivre son aventure

Quel est ce nombre ?

$98 + 25 = 123$	$12 > 21$	Daniel a deux pièces de 2 euros Noëlle a trois pièces de 1 euro C'est Noëlle la plus riche.	
 10 points	$7 + 2 < 10$	$24 + 33 = 34 + 23$	Un carré a trois côtés.
$50 + 30 + 40 = 130$	 Tu vois 4 triangles.	Le chiffre des dizaines de 48 est 8.	$12 + 54 + 32 = 54 + 32 + 12$
$28 - 12 = 16$	Cette figure est un cercle. 	$140 - 24 = 116$	36 est un nombre compris entre 20 et 40.
Marion a 6 ans et Paul a 3 ans de plus qu'elle. Paul a donc 36 ans.		6 est le double de 3.	Quarante-huit est plus grand que vingt-trois.
25 ; 42 ; 53 ; 44 sont rangés en ordre croissant.	Pour montrer 20 doigts il faut deux mains.	$20 + 20 + 20 = 60$	 Cette figure est un triangle.
Le chiffre des unités de 75 est 5.	Dans trente-sept il y a 3 dizaines.	Soixante-dix-huit s'écrit 68 en chiffres.	4 est la moitié de huit.

Bonne chance....