

# LES PROBLEMES MONSTRUEUX DE...



LALA



LILI




LULU

RESOUS CHACUN DES PROBLEMES.

INSCRIS LE CODE DE TA REponse SUR LA FEUILLE QUE TU AS TROUVEE DANS LE LIVRE.

## PROBLEME 1

10 MONSTRES SONT ENTRES DANS LA MAISON.  
COMBIEN SONT CACHES ?



☉ 10

♈ 5

☁ 3

## PROBLEME 2

QUI A OBTENU 10 ?



LULU

LILI

LALA

## PROBLEME 3

QUI A PLUS QUE LILI ?



LULU


LALA

### PROBLEME 4

LILI AVAIT 10 BANANES EN PARTANT A L'ECOLE.  
EN ARRIVANT, IL LUI EN RESTE 4. COMBIEN A-  
T'ELLE MANGE DE BANANES ?



LILI




- 5
- 6
- 7

### PROBLEME 5

LALA ACHETE 5 PETITS GATEAUX. CHAQUE  
GATEAU COUTE 2 EUROS. COMBIEN LALA VA-T-  
ELLE PAYER ?



LALA



- 10
- 8
- 7

### PROBLEME 6

LULU ACHETE 12 POMMES, ELLE LES PARTAGE AVEC LALA. CHACUN DOIT EN AVOIR AUTANT. COMBIEN LALA AURA-T-ELLE DE POMMES ?



- ↑ 7
- ☎ 12
- 6

### PROBLEME 7

LULU JOUE AUX CARTES AVEC LALA ET LILI. ELLE DISTRIBUE 3 CARTES A CHAQUE PERSONNE. COMBIEN DE CARTES VA-T-ELLE DISTRIBUER ?



- ⊕ 6
- ⊖ 9
- ✉ 3

### PROBLEME 8


LALA A 4 PIECES DE 2 EUROS. COMBIEN A-T-ELLE DANS SON PORTE-MONNAIE ?



- ↑ 8
- 6
- 💣 2

### PROBLEME 9

LULU ACHETE UN LIVRE, UNE SUCETTE ET UN BISCUIT. ELLE PAIE AVEC UN BILLET DE 10 EUROS. COMBIEN LA VENDEUSE VA-T-ELLE LUI RENDRE ?



- ☀ 8
- ☞ 10
- ⊗ 2

## PROBLEME 10

LULU A 20 CARTES. ELLE EN DONNE LA MOITIE A LALA. COMBIEN LALA A-T-ELLE DE CARTES ?



↔ 20

↶ 10

⌆ 8

## CODES

A	B	C	D	E	F	G
☒	⊗	↑↑	⊖	◆	☛	☀

H	I	J	K	L	M	N
💣	⦿	⊕	✉	♊	☎	↑

O	P	Q	R	S	T	U
↶	□	◯	⌆	♋	●	♏

V	W	X	Y	Z
↔	⌆	↶	♌	💧



# LES PROBLEMES MONSTRUEUX DE...



LALA



LILI



LULU

1	2

3	1	4

4	5	6

7	2	8	5

1	4

9	10	3	2	1