
















## Fiche Elèves

<b>Niveau :</b>	<b>Cycle 2 Niveau 2 Jour 4</b>
<b>THEME :</b>	<b>Jouer avec les symboles - Numération</b>

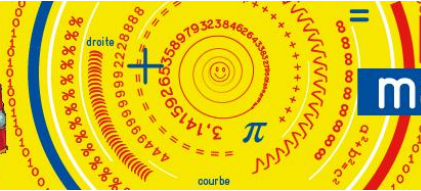
### Le code secret :

- Pour ouvrir la chambre forte de la pyramide, tu dois trouver les trois chiffres du code ... dans l'ordre qui convient.

Pour représenter les chiffres, le pharaon utilisait des symboles représentant des parties du corps.

			<b>aucun symbole correct</b>
			<b>un seul symbole correct, mal placé</b>
			<b>un seul symbole correct, bien placé</b>
			<b>un seul symbole correct, bien placé</b>
			<b>un seul symbole correct, mal placé</b>










$$\text{III} + \text{I} = \text{IV}$$
$$\text{XIII} + \text{VI} = \text{XIX}$$



Dessine le bon code avec les symboles dans le tableau suivant :

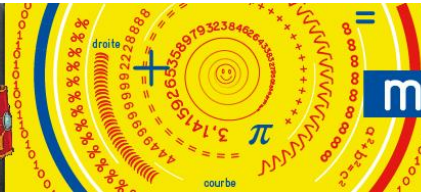
--	--	--

Utilise le tableau ci-dessous pour trouver l'indice du jour en chiffres.

								
<b>1</b>	<b>2</b>	<b>3</b>	<b>4</b>	<b>5</b>	<b>6</b>	<b>7</b>	<b>8</b>	<b>9</b>

➤ L'indice du jour est :

--	--	--












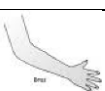





## Fiche Enseignant

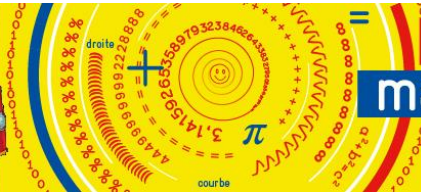
<b>Niveau :</b>	<b>Cycle 2 Niveau 2 Jour 4</b>
<b>THEME :</b>	<b>Jouer avec les symboles - Numération</b>
<b>Indice du jour :</b>	<b>786</b>

### Le code secret :

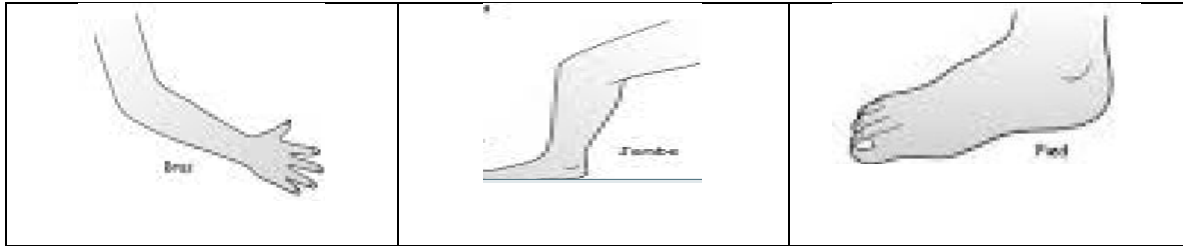
- Pour ouvrir la chambre forte de la pyramide, tu dois trouver les trois chiffres du code ... dans l'ordre qui convient.

Pour représenter les chiffres, le pharaon utilisait des symboles représentant des parties du corps.










			<b>aucun symbole correct</b>
			<b>un seul symbole correct, mal placé</b>
			<b>un seul symbole correct, bien placé</b>
			<b>un seul symbole correct, bien placé</b>
			<b>un seul symbole correct, mal placé</b>



Dessine le bon code avec les symboles dans le tableau suivant :



Utilise le tableau ci-dessous pour trouver l'indice du jour en chiffre arabe.

								
<b>1</b>	<b>2</b>	<b>3</b>	<b>4</b>	<b>5</b>	<b>6</b>	<b>7</b>	<b>8</b>	<b>9</b>

1 / 2 / 3 : aucun chiffre correct

6 / 1 / 2 : un seul chiffre correct, mal placé

4 / 5 / 6 : un seul chiffre correct, bien placé

7 / 4 / 5 : un seul chiffre correct, bien placé

2 / 1 / 8 : un seul chiffre correct, mal placé

➤ L'indice du jour est **786**