

300

350

400

450

500


Prérequis oral	Un ballon coûte 19 €. Puis-je l'acheter avec un billet de 10 € ? de 20 € ? de 50 € ?
Réinvestissement	Multiplier par un nombre entier de dizaines, de centaines.
Différenciation	Consolidation : Photofiche 103 C.

Découvrons

1 Complète.

Mélissa achète cette sucette.


70 c



Elle donne



Entoure ce que la marchande lui rend.



1 € c'est 100 c.


La marchande lui rend 1 € 30 c.

Je m'entraîne

2 Complète.

Théo achète ce croissant.

80 c



Il donne



Entoure ce que la vendeuse lui rend.



La vendeuse lui rend 0 € 20 c.

3 Complète.

Léa achète cette tartelette.

2 € 90 c



Elle donne



Entoure ce que le vendeur lui rend.



Le vendeur lui rend 1 € 10 c.

4 Calcule.

$8 \times 10 = \dots 80$

$8 \times 100 = \dots 800$

$4 \times 20 = \dots 80$

$4 \times 200 = \dots 800$

$3 \times 30 = \dots 90$

$3 \times 300 = \dots 900$