

90

100


70

40

100

Découvrons

1 Mélissa a enfilé des perles. De quelle couleur est la première perle ? rose



De quelle couleur est :

- la quatrième perle ? orange

- la dernière perle ? verte




2 Au cross de l'école, Léa est cinquantième (50^e).

Combien d'élèves sont devant elle ? 49

Quelle est la position de Théo ? 52^{ème}

Quelle est la position de Mélissa ? 45^{ème}



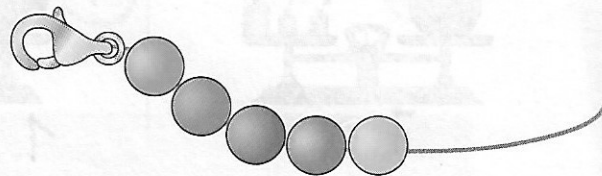
Je m'entraîne

3 Léa a enfilé des perles. De quelle couleur est :

- la première perle ? orange

- la dernière perle ? rose

- la troisième perle ? violet




4 Julia qui a le casque vert est la vingt-troisième de la course.

Combien de personnes sont devant elle ? 22

Quelle est la position de Nils qui a le casque jaune ? 25^{ème}

Quelle est la position de Maya qui a le casque bleu ? 22^{ème}



5 Complète les calculs en ligne des produits suivants :

$17 \times 4 = 10 \times 4 + 7 \times 4$

$17 \times 4 = 40 + 28$

$17 \times 4 = 68$

$24 \times 5 = 20 \times 5 + 4 \times 5$

$24 \times 5 = 100 + 20$

$24 \times 5 = 120$